



امتحانات أبناؤنا في الخارج

ملف تقييم الأداء

رياض أطفال
المستوى الثاني
Kg2

باللغة الفرنسية

الفصل الدراسي

الثاني



2026

رقم الجلوس:

اسم الطالب:

سفارة جمهورية مصر العربية في دولة:



جمهورية مصر العربية




إرشادات عامة

- يتم تحميل ملف التقييم للطالب باللفة الفرنسية للطلاب المتقدمين على (النظام لغات فرنسي) من خلال المنصة الالكترونية لأبنائنا في الخارج بوزارة التربية والتعليم :

<http://saboard.emis.gov.eg>

- يتم طباعة الملف ويقوم الطالب بالإجابة عن الأنشطة الموجودة.
- يتم رفع الملف بعد الانتهاء من الإجابة عليه على المنصة الالكترونية لأبنائنا في الخارج.
- يتم تحميل الملف ورفعها بعد استكمالها بداية من وضعه على المنصة ولمدة أسبوعين.
- لا يتم ارسال أية ملفات تقييم ورقية ، ويتم التعامل من خلال المنصة الالكترونية فقط
- يتم تحميل الملف ورفعها من خارج جمهورية مصر العربية فقط.


النشاط الأول: لون الدائرة التي بها صوت الحرف المناسب



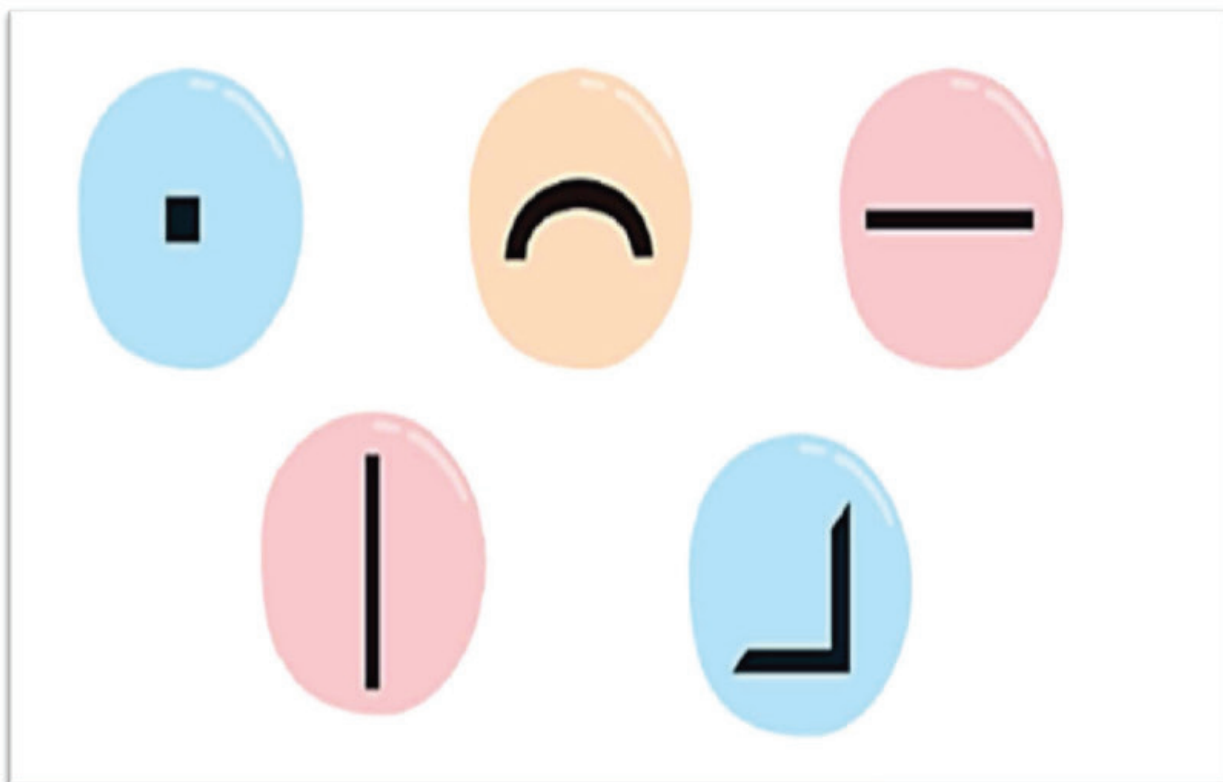
النشاط الثاني: ارسم دائرة حول ما يحتاج إليه صاحب كل مهنة



النشاط الثالث: أقرأ الكلمة ثم حللها الى حروف



النشاط الرابع: ارسم دائرة حول الخطوات التي تكون حرف (ظ)



النشاط الخامس: اختار الحرف الناقص واكتبه

رَق.....

عَم.....م

دَف.....

قِر.....

و

و

ظ

ظ

هـ

هـ

ش

ش

1- Relie chaque profession avec le moyen de transport qui lui correspond



Le bus



Le bateau



Le train



L'avion



2-Entoure ce qui coûte le moins cher. Quelle est la différence ?

9 LE



5 LE



_____ de moins

8 LE




10 LE




_____ de moins

6 LE



4 LE



_____ de moins

3- Que peux-tu acheter pour 10 LE



5 LE



9 LE



5 LE



5 LE






1 LE



7 LE

**4- Est-ce que cet aimant peut attirer l'objet ? Oui ou Non.
Fais le test avec l'objet .Est ce que l'aimant attire l'objet? Écris
Oui ou Non. Dessine 2 autres objets pour faire une hypothèse et
un test.**

L'OBJET	L'HYPOTHÈSE	LE TEST
	<hr/> <hr style="border-top: 1px dashed;"/> <hr/>	<hr/> <hr style="border-top: 1px dashed;"/> <hr/>
	<hr/> <hr style="border-top: 1px dashed;"/> <hr/>	<hr/> <hr style="border-top: 1px dashed;"/> <hr/>
	<hr/> <hr style="border-top: 1px dashed;"/> <hr/>	<hr/> <hr style="border-top: 1px dashed;"/> <hr/>
	<hr/> <hr style="border-top: 1px dashed;"/> <hr/>	<hr/> <hr style="border-top: 1px dashed;"/> <hr/>
	<hr/> <hr style="border-top: 1px dashed;"/> <hr/>	<hr/> <hr style="border-top: 1px dashed;"/> <hr/>

1- Soustrais et écris le résultat.



6

-

2

=



5

-

3

=















8

-

4

=

2- Additionne et écris le résultat.

			
$6 + 5 =$	$4 + 4 =$		
			
$7 + 8 =$	$6 + 6 =$		
			
$5 + 5 =$	$4 + 3 =$		

3- Relis chaque objet à son prix convenable.



20 livres



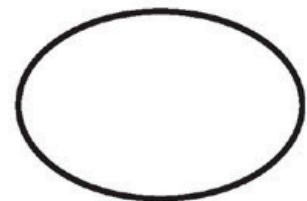
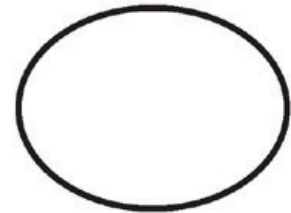
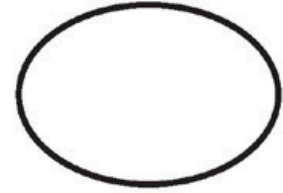
5 livres




10 livres



4- Écris (1) sous l'objet le plus léger. Écris (3) sous l'objet le plus lourd. Écris (2) sous l'objet entre les deux.



5- Colorie chaque forme avec la couleur qui lui convient.



ملف تقييم الأداء

Kg₂ رياض أطفال
المستوى الثاني

باللغة الفرنسية



الفصل الدراسي الثاني 2026